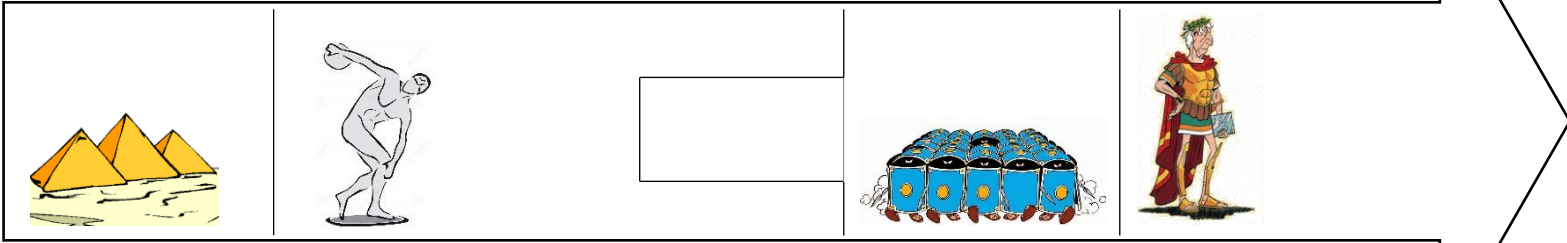


## H2 – Séance 1 : Gaulois et Romains

### Les Gaulois

- 1) Complète la frise avec le nom des grandes civilisations : *L’Egypte antique – La Grèce antique – Rome – L’Empire Romain (Rome et ses conquêtes)*

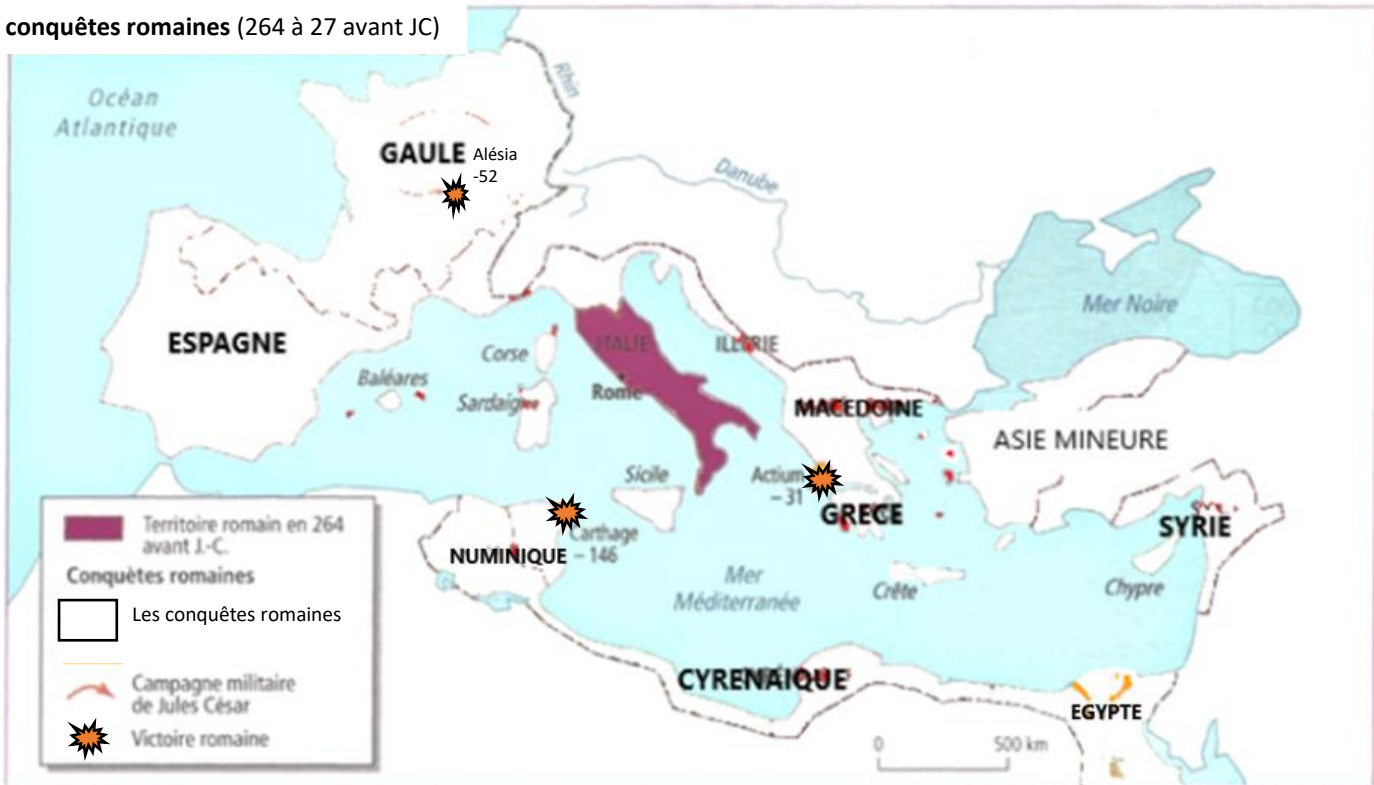


- 2) Colorie en vert la période à laquelle vivent les Gaulois.
- 3) A quel pays actuel correspond la Gaule ? .....
- 4) Nomme 3 tribus gauloises importantes :
- 5) Qu’est-ce qu’un oppidum ? .....
- .....
- 6) Nomme 3 oppida célèbres.

### Les Romains

- 1) Colorie en rouge les territoires conquis par les Romains.
- 2) Quelle est l’ambition de Jules César ?
- .....
- .....


Les conquêtes romaines (264 à 27 avant JC)




## Les batailles

- 1) Quel homme encourage les émeutes gauloises ? .....
- 2) Où se rend Jules César pour vaincre cet homme ? .....
- 3) Pourquoi Vercingétorix se rend-il ensuite à Alésia ? .....

4) Remets les événements du siège à Alésia dans l'ordre chronologique.



Les Romains bâtissent une 1 <sup>ère</sup> ligne de défense pour se protéger des Gaulois	Les Romains encerclent la ville d'Alésia	Vercingétorix se réfugie dans l'oppidum d'Alésia	Les Romains bâtissent une 2 <sup>ème</sup> ligne de défense pour se protéger des Gaulois venus de l'extérieur	Malgré les renforts gaulois, Vercingétorix doit se rendre. Les Romains remportent la bataille d'Alésia
--	--	--	---	--



### **4** Reconstitution du siège d'Alésia

A = Alésia (fortifications gauloises)

B = fortifications romaines (se protéger des assauts gaulois et empêcher les Gaulois de sortir de l'oppidum).

C = fortifications romaines (se protéger des renforts gaulois venus de l'extérieur)

D = camp romain