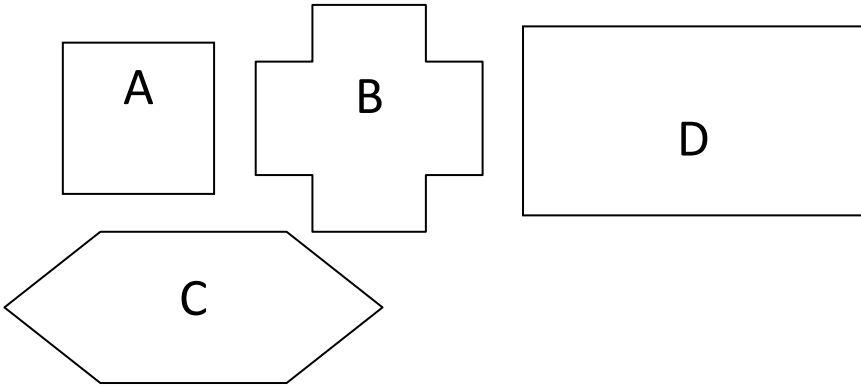


**Calcul de périmètres**

**EX. 1**

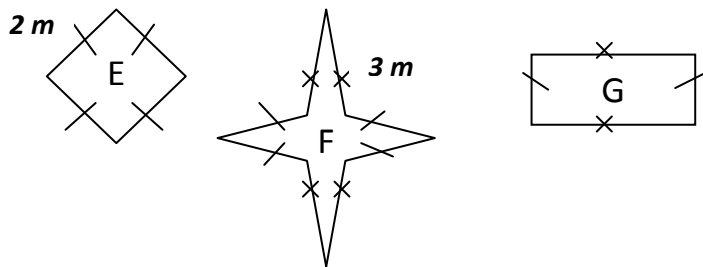


**Calcule le périmètre de chacune des figures et complète le tableau suivant :**

	<u>Nom du polygone</u>	<u>Calculs</u>	<u>Périmètre</u>	
			en cm	en mm
A	.....			
B	.....			
C	.....			
D	.....			

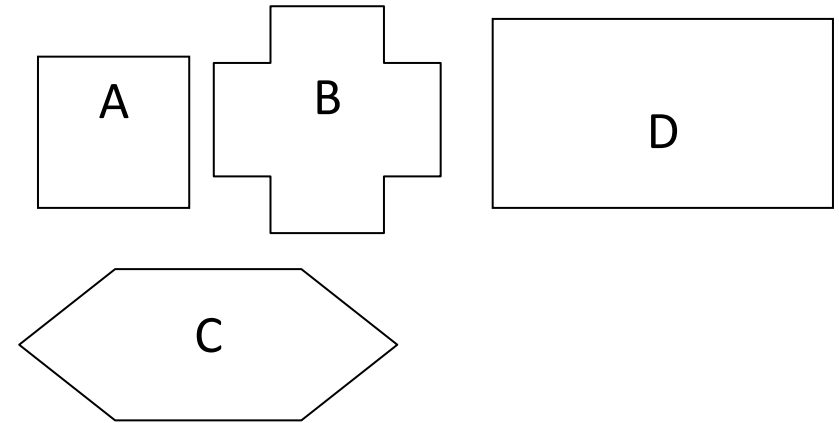
**EX. 2**

**Calcule le périmètre de ces polygones. Ecris tous tes calculs.**



**Calcul de périmètres**

**EX. 1**

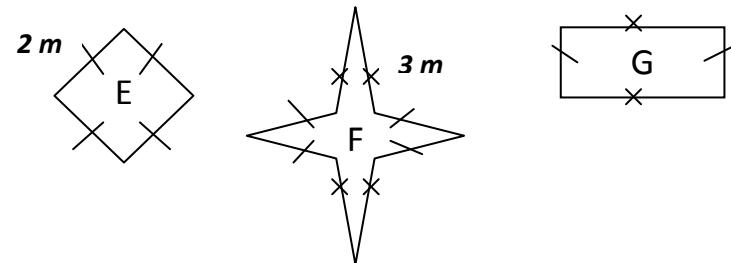


**Calcule le périmètre de chacune des figures et complète le tableau suivant :**

	<u>Nom du polygone</u>	<u>Calculs</u>	<u>Périmètre</u>	
			en cm	en mm
A	.....			
B	.....			
C	.....			
D	.....			

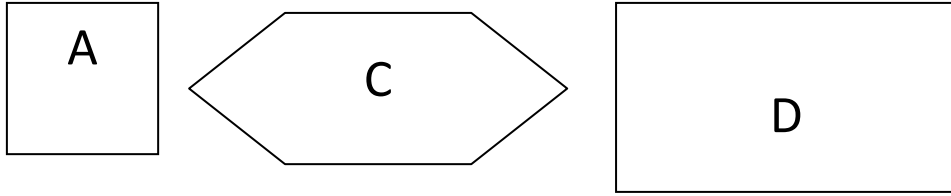
**EX. 2**

**Calcule le périmètre de ces polygones. Ecris tous tes calculs.**



Calcul de périmètres

EX. 1

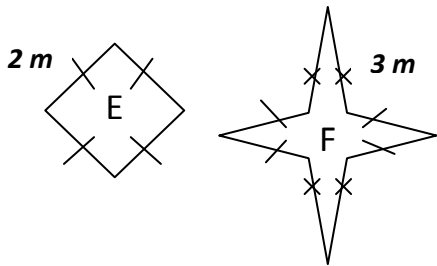


Calcule le périmètre de chacune des figures et complète le tableau suivant :

	<u>Nom du polygone</u>	<u>Calculs</u>	<u>Périmètre</u>	
			en cm	en mm
A	.....			
C	.....			
D	.....			

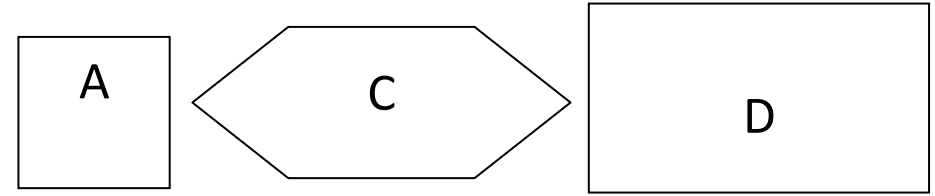
EX. 2

Calcule le périmètre de ces polygones. Ecris tous tes calculs.



Calcul de périmètres

EX. 1



Calcule le périmètre de chacune des figures et complète le tableau suivant :

	<u>Nom du polygone</u>	<u>Calculs</u>	<u>Périmètre</u>	
			en cm	en mm
A	.....			
C	.....			
D	.....			

EX. 2

Calcule le périmètre de ces polygones. Ecris tous tes calculs.

