

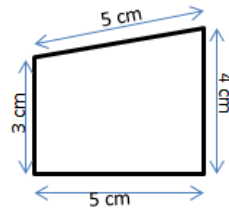
Le périmètre d'une figure est la longueur du contour de cette figure.

(Le pré de la vache est la figure, la clôture autour est le périmètre)

- Pour calculer le périmètre d'un polygone quelconque, on additionne les longueurs de tous ses côtés.

Périmètre = 5 + 4 + 5 + 3 = 17

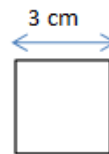
Le périmètre de ce polygone est de 17 cm.



- Pour calculer le périmètre de polygones réguliers, on utilise des formules :

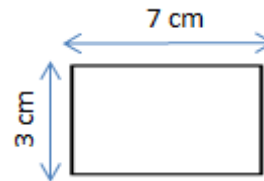
- Périmètre du **carré** : côté x 4

P = côté x 4




- Périmètre du **rectangle** : (Longueur + largeur) x 2

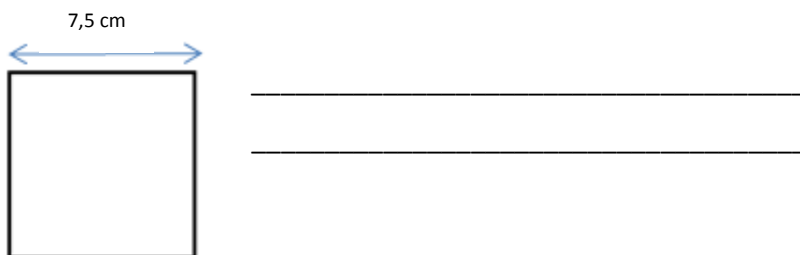
P = (Longueur + largeur) x 2



Ex 1 : Calcule le périmètre du polygone ci-dessous.



Ex 2 : même consigne.



Ex 3 : Quelle figure a le plus grand périmètre ?

